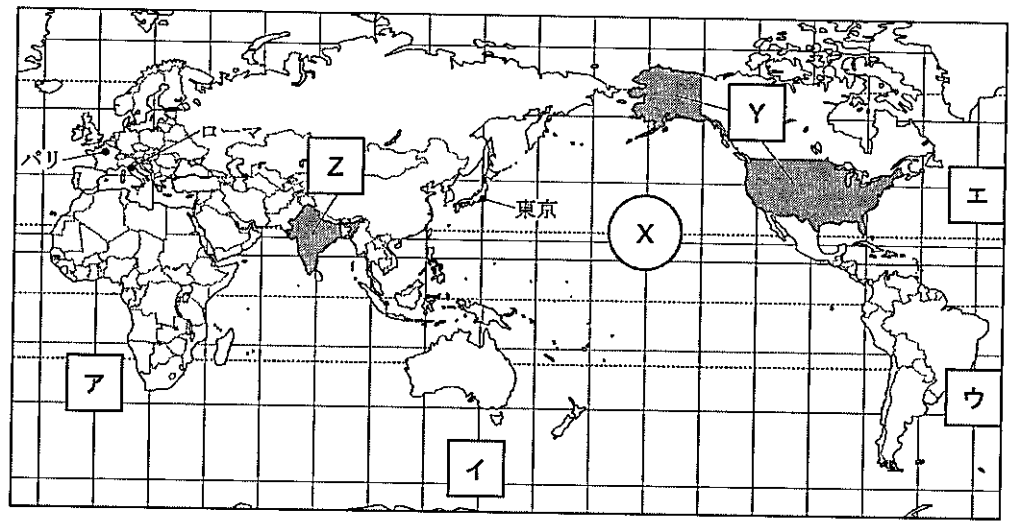


8

1 世界の様々な地域について、次の各問いに答えよ。

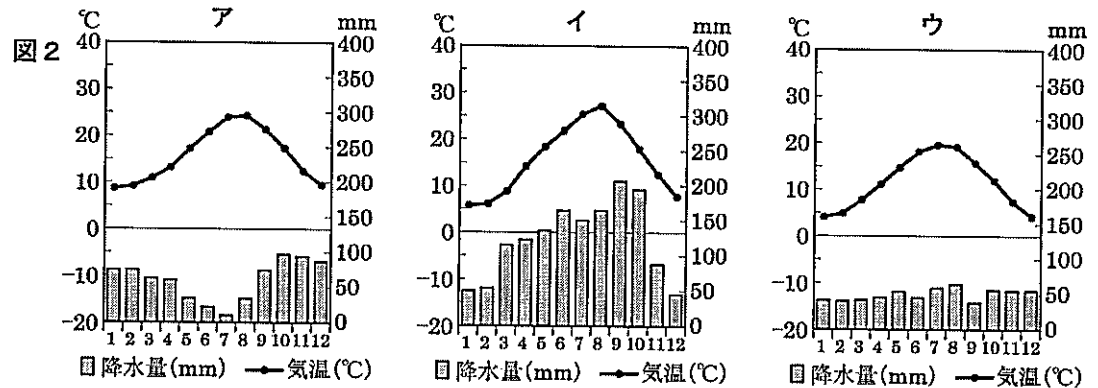
図1



- 問1 図1中の⊙Xの付近の大洋を何というか。漢字で答えよ。
- 問2 図1中の東京に対して、地球の中心を通った反対側の地点を含む範囲として最も適当なものを、図1中のア～ウのうちから1つ選び、記号で答えよ。
- 問3 図1中のY国では、Zなど世界中から研究者や技術者が集まり、情報通信技術（ICT）関連産業が発達している。図1中のZに入る国名を答えよ。また、次の説明文の（①）に入る語句を漢字2字で答えよ。

Z出身者がY国で情報通信技術（ICT）関連産業において活躍している理由は、Zでの数学の教育水準が高いことや、（①）を話せる技術者が多いことなどがあげられる。

問4 図1中のパリ、ローマ、東京について、次の図2のア～ウの雨温図はいずれかのものである。ローマにあてはまるものをア～ウのうちから1つ選び、記号で答えよ。



(帝国書院『中学校社会科地図』より作成。統計年次は2015年)

問5 次の表1の作物A～Cは、米・小麦・とうもろこしのいずれかについての生産上位国を示している。作物Cの説明文として最も適当なものを、次のア～ウのうちから1つ選び、記号で答えよ。


表 1

|    | 作物A     | 作物B     | 作物C     |
|----|---------|---------|---------|
| 1位 | アメリカ合衆国 | 中国      | 中国      |
| 2位 | 中国      | インド     | インド     |
| 3位 | ブラジル    | アメリカ合衆国 | インドネシア  |
| 4位 | インド     | フランス    | バングラデシュ |
| 5位 | メキシコ    | ロシア     | ベトナム    |

(帝国書院「中学校社会科地図」より作成。統計年次は2012年)

- ア パンやめん類などに加工され、世界各地で主食としている国が多い。
- イ アジア州の国で多く生産され、この地域で主食としている国が多い。
- ウ 食用以外に、植物油の原料や家畜の飼料としている国が多い。

問6 次の図3はアジア州のマレーシアにおける輸出品と輸出総額を示している。図3から読み取れる内容として最も適当なものを、次のア～エのうちから1つ選び、記号で答えよ。



- ア 1980年は、天然ゴムの輸出額が約16億ドルであることがわかる。
- イ 1980年は、鉱産資源だけで輸出総額の60%以上をしめていることがわかる。
- ウ 2013年は、輸出総額が1980年の約10倍になっていることがわかる。
- エ 2013年は、1980年に比べ輸出総額に占める工業製品の割合が増加していることがわかる。

問7 次のア～エはアフリカ州について述べている。誤っているものをア～エより1つ選び、記号で答えよ。

- ア サハラ砂漠とその北部は、アフリカの他地域よりイスラム教を信仰する人が特に少ない地域である。
- イ 複数の民族が暮らす国では、民族のまとまりを無視した植民地時代の境界線が国境線となったところが多く、民族間の争いがみられる地域がある。
- ウ 多くの国では、特定の生産物の輸出にたよったモノカルチャー経済がみられる。
- エ 日本などの先進国は、アフリカの国々の自立に向けた技術支援や開発援助を行っている。

問8 次の表2は、説明文の中の  の作物生産量について世界の国別および日本の都道府県別の上位を示している。 に入る作物名を答えよ。また説明文の  に入る  と関連する最も適当な語句をカタカナで答えよ。

表 2

|    | 世界(2012年) | 日本(2013年) |
|----|-----------|-----------|
| 1位 | ブラジル      | 沖縄県       |
| 2位 | インド       | 鹿児島県      |
| 3位 | 中国        |           |

(帝国書院「中学校社会科地図」より作成)

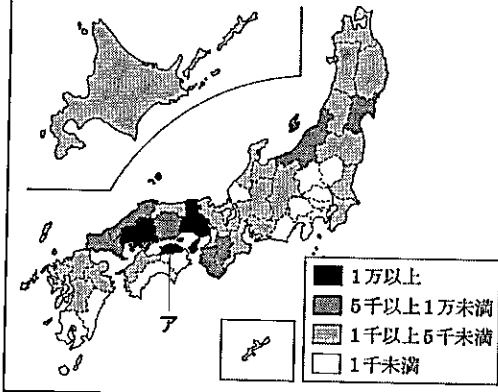
ブラジルでは、 から  燃料を生産している。 燃料は、おもに植物を原料とするため、燃やしても大気中の二酸化炭素を増やさないとされている。

2 優樹さんは、日本の様々な地域の特色について調べ、ノートを作成した。ノートをみて、各問に答えよ。

ノート

自然環境の視点からみた日本の様子

主題図A 各都道府県のため池数

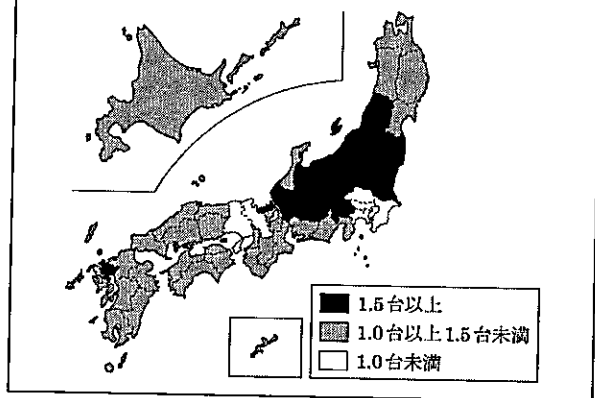


(農林水産省ホームページから作成)

ため池がつくられた理由の一つは、  
①日本の気候と関係がある。また、ため池の水は、主に農業用水として使われてきた。

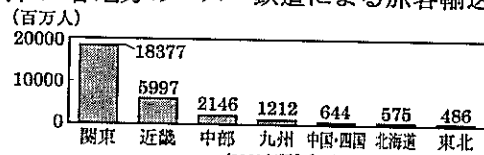
②交通の視点からみた日本の様子

主題図B 一世帯あたりの乗用車保有台数



(2020年版「データでみる県勢」から作成)

資料I 各地方のバス・鉄道による旅客輸送人数



(2020年版「データでみる県勢」から作成)

九州地方の③農業の特色

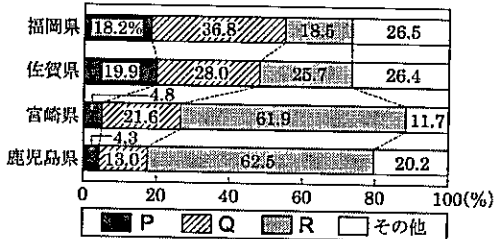
主題図C 九州地方の火山灰を成分とする地層の分布



主題図Cのように、火山灰を成分とする地層が広く分布している。その中には、シラスと呼ばれる、保水性

(農業・食品産業技術総合研究機構ホームページから作成)

資料II 九州地方4県の農業産出額の内訳

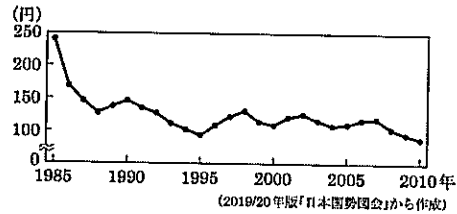


(2019年版「データでみる県勢」から作成)

2つの資料をを関連づけると、九州地方の農業の特色は、[ ㉠ ] という事がわかる。

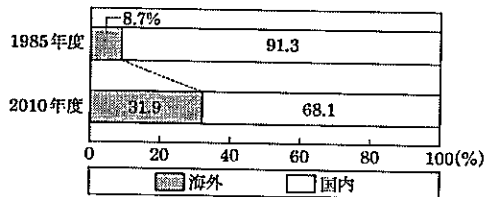
日本の④工業の変化

資料III 為替相場の推移



(2019/20年版「日本国勢協会」から作成)

資料IV 海外に進出している企業のうち製造業の海外生産比率の変化

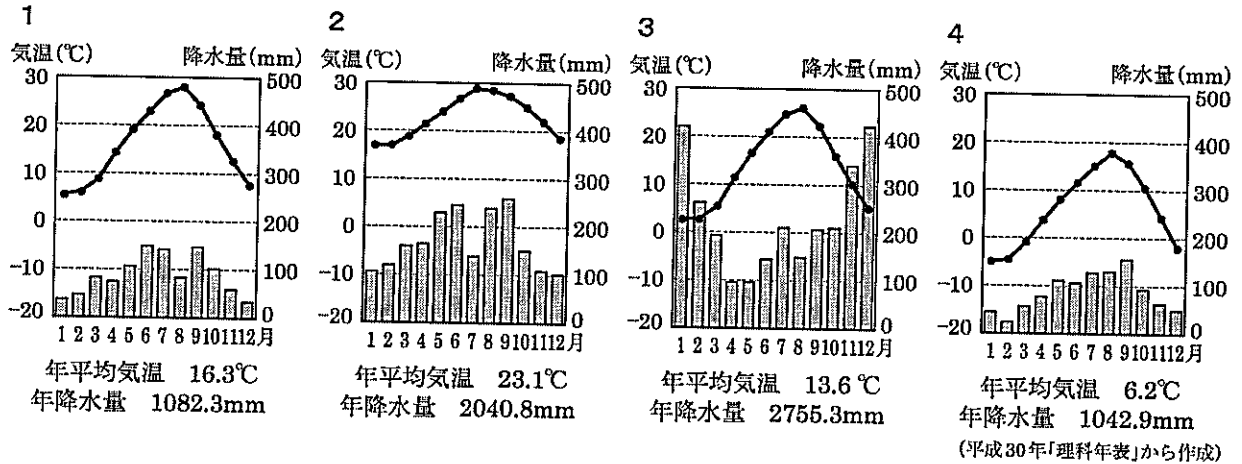


(経済産業省ホームページから作成)

資料III, IVを関連づけると、製造業では、円の価値が [ ㉡ ] ことがわかる。

主題図A~Cの図法、縮尺は同じではない。

問1 下線部①について、主題図Aのアの都市の雨温図を、次の1～4から一つ選び、番号で答えよ。



問2 下の  内は、下線部②で、優樹さんが主題図Bと資料Iからたてた「問い」と「予想」である。この「予想」を確かめる調査項目として最も適切なものを、次の1～4から1つ選び、番号で答えよ。

「問い」：なぜ、関東地方と近畿地方には、一世帯あたりの乗用車保有台数が1.0台未満の都府県があるのだろうか。

「予想」：資料Iから、関東地方と近畿地方は、他の地方と比べ、公共交通機関が発達しているのではないか。

- |  |              |
|--|--------------|
| 1 1 km <sup>2</sup> あたりの高速道路の実延長 (km)    | 2 鉄道・バス路線の運賃 |
| 3 1 km <sup>2</sup> あたりの鉄道・バス路線の実延長 (km) | 4 年間の観光客数    |

問3 下線部③について、資料IIのP～Rは、米、野菜、畜産のいずれかを示す。〔㊶〕にあてはまる内容を、P、Rにあてはまる語句を使って書け。

問4 下線部④について、〔㊷〕にあてはまる内容を、資料III、IVから読み取れることを関連づけて、「生産にかかる費用」の語句を使って書け。

問5 下の  内は、優樹さんが、身近な地域の調査で作成したものである。下の  をみて、避難方向を、避難地図の案に示すX、Yから一つ選び、記号で書け。また、そう判断した理由を、避難地図の案から読み取れることをもとに書け。

身近な地域の防災

〈学級への提案課題〉

あなたは、略地図Dのaの都市の海水浴客向けの、避難地図を作成することになった。2011年3月の大災害をもとに、避難地図の案に避難方向を矢印で描くとき、最も適切なものを一つ選び

〈避難地図の案〉

(国土地理院ホームページから作成)

- 3 一郎さんは、わが国の歴史に登場した貨幣について調べ、カードを作成し、ノートにまとめた。ノートを見て、各問に答えよ。

ノート


略年表 ア～オは、カード中の年を示す。

|    |    |   |   |   |    |    |    |    |    |    |    |    |    |    |    |    |
|----|----|---|---|---|----|----|----|----|----|----|----|----|----|----|----|----|
| 世紀 | 6  | 7 | 8 | 9 | 10 | 11 | 12 | 13 | 14 | 15 | 16 | 17 | 18 | 19 | 20 | 21 |
| 時代 | 古代 |   |   |   |    | 中世 |    |    |    |    | 近世 |    | 近代 | 現代 |    |    |

カード


A

この貨幣は、アの年につくられた。この時代は、①律令に基づく政治が行われ、各地の産物が都の市で売買され、唐の影響を受けた国際的な文化が栄えた。




B

この貨幣は、イの年に始まった日明貿易により、大量に輸入された。この時代は、武家による支配が全国に広まり、定期市が各地で開かれ、[ あ ]。




C

この貨幣は、ウの年につくられ始めた。この時代は、幕藩体制が確立し、交通網が整備され、各地で都市が成長し、[ い ]。




D

この貨幣は、エの年につくられ始めた。この時代は、中央集権国家のしくみを整えながら、殖産興業や富国強兵を進め、[ う ]。



E

この貨幣は、オの年につくられ始めた。この時代は、民主化を果たし、GNPが資本主義国で第2位の②経済大国となり、テレビなどの登場により大衆文化が一層栄えた。



問1 下線部①について、このことと最も関係が深い人物を、次の1～4から一つ選び、番号で答えよ。

- 1 後醍醐天皇      2 徳川綱吉      3 聖武天皇      4 大久保利通

問2 一郎さんは、次の1～3のできごとを、カードの[ あ ]～[ う ]にあてはめようとした。

[ あ ], [ う ]にあてはまるものを一つずつ選び、番号で答えよ。

- 町人を担い手とする文化が栄えた
- 欧米の思想や生活様式を取り入れた文化が栄えた
- 公家の文化と武家の文化がまじり合った文化が栄えた


問3 資料Iについて、次の各問に答えよ。

(1) 資料Iに示す札が使用され始めた時期は、略年表のどのころか、次の1～4から一つ選び、番号で答えよ。

1 アのころ 2 イのころ 3 ウのころ 4 エのころ

(2) 資料Iに示す札を使って行ったことを、「日本から来た」の書き出しで、「証明」の語句を使って書け。

資料I



問4 下の□内は、下線部②について、資料IIのように経済成長率が変化した理由を説明したものである。〔㊦〕と〔㊧〕にあてはまる語句を書け。ただし、同じ記号には同じ語句が入る。

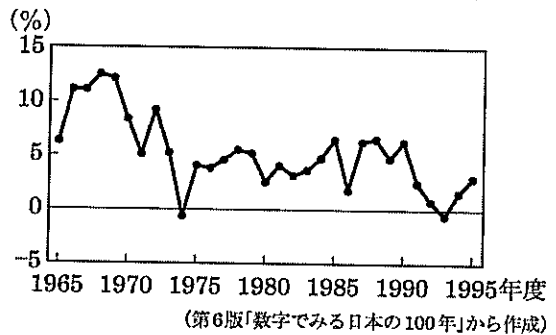
20世紀後半に、わが国の経済成長率が、0%を下回った時期が2度あったことがわかる。

1度目は、〔㊦〕の影響によるものである。〔㊦〕は、中東戦争と関係が深い。

2度目は、〔㊧〕が崩壊したことによるものである。

〔㊧〕は、実際の経済の力をこえて、株式や土地の価格が急激に上昇したことである。

資料II 20世紀後半の経済成長率の推移

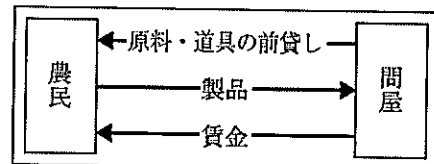


問5 下の□内は、一郎さんが、A～Eのカードが示す時代のうち、いずれかの社会の様子についてまとめたものである。どの時代の様子か、A～Eから一つ選び、記号で答えよ。また、〔 〕にあてはまる内容を、「貨幣経済」と「商品作物」の語句を使って書け。

この時代の農村では、自給自足に近い生活に変化が起き、図に示すような経済活動が広くみられるようになっていった。

このような経済活動が広くみられるようになったのは、〔 〕ことと関係が深い。

図



4 次の表1は、世界と関係する出来事が日本に与えた影響をまとめたものである。次の各問いに答えよ。

表1


| 世紀         | できごと            | 日本に与えた影響   |
|------------|-----------------|--|
| 紀元前4世紀頃までに | a 稲作の伝来         | 土地や水の利用をめぐる争いから戦いがおこり、やがて周辺のムラをまとめる有力なクニ（国）が現れた。 |
| 8世紀        | b 遣唐使の派遣        | 唐から進んだ制度や文化を取り入れ、c 律令国家の形成につながった。                |
| 13世紀       | 蒙古襲来（元寇）        | 北条氏に権力が集中し、生活が苦しくなったd 御家人たちの不満が高まった。             |
| 15世紀       | e 琉球王国の成立       | 中国・日本・朝鮮・東南アジア諸国とさかんに交易を行った。                     |
| 16世紀       | ヨーロッパ諸国とのf 南蛮貿易 | 鉄砲とg キリスト教が伝来し、戦国大名のなかには貿易の利益を期待して信者になる者が現れた。    |
| 17世紀       | 島原・天草一揆         | h 江戸幕府は日本人の海外への行き来を禁止し、さらに外国との貿易を制限した。           |

問1 下線部aについて、弥生時代の人々の生活について述べた文章として、正しいものを次のア～エのうちから1つ選び、記号で答えよ。

- ア 渡来人が仏教や儒教を伝え、その後の信仰や文化に大きな影響をあたえた。
- イ 祭りの道具として、銅鐸などの青銅器がつくられるようになった。
- ウ 前方後円墳をはじめとする大きな古墳が、さかんにつくられるようになった。
- エ 京の東西におかれた市では、各地の品物が売り買いされるようになった。

問2 下線部bについて、図1は正倉院と宝物である。正倉院に納められているこの宝物は、遣唐使などによってもたらされたものである。この時代の国際色豊かな文化を何文化というか、漢字2字で答えよ。

図1



問3 下線部cについて、成立した律令国家はその後の時代も変化しながら続いていった。次のア～ウを、年代の古い順に並べ替えよ。

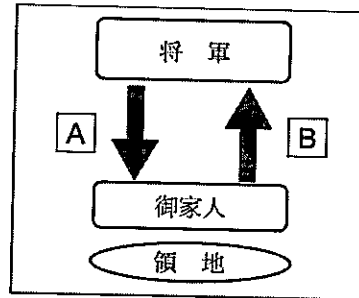
- ア 平安京に都を移した。
- イ 大宝律令が定められた。
- ウ 墾田永年私財法が定められた。

問4 下線部 d について、図2は元軍と戦う御家人を描いたものである。図3で示した将軍と御家人の関係を参考にして、説明文の **A**・**B** に入る語句を、それぞれ漢字2字で答えよ。

図2



図3



御家人は、将軍から先祖伝来の領地の支配をみとめられたり、新たな領地や役職を与えられるなどした。これを **A** という。そのかわりに戦いがあれば鎌倉幕府のために一族を率いて命がけで戦ったり、京都や鎌倉の警備をするなどの義務を負った。これを **B** という。

問5 下線部 e について、琉球王国や琉球藩について述べた文章として誤っているものを、次のア～エのうちから1つ選び、記号で答えよ。

- ア 15世紀、尚巴志は3つに分かれていた勢力を統一し、琉球王国が成立した。
- イ 1609年、琉球王国は薩摩藩に征服され、それ以後中国への朝貢は禁止された。
- ウ 琉球の三線が日本に伝わり三味線がつけられ、近世の音楽を支える楽器となった。
- エ 1879年、明治政府は、軍隊や警察の力を背景に琉球藩を廃止し、沖縄県を設置した。

問6 下線部 f について、南蛮貿易について述べた文章として正しいものを、次のア～エのうちから1つ選び、記号で答えよ。

- ア 南蛮貿易は、蝦夷地（北海道）南部を領地とした松前藩を中心におこなわれた。
- イ 南蛮貿易を通して、西洋の学問をオランダ語で研究する蘭学がさかんになった。
- ウ 南蛮貿易は、ポルトガル人やスペイン人を貿易相手としておこなわれた。
- エ 南蛮貿易の結果、多くの日本人がメキシコに移り住み、各地に日本町ができた。

問7 下線部 g について、日本とキリスト教のかかわりについて述べた文章として正しいものを、次のア～エのうちから1つ選び、記号で答えよ。

- ア イエズス会の宣教師ザビエルが、日本に来てキリスト教を布教した。
- イ 織田信長は、宣教師の国外追放を命じてキリスト教を禁止した。
- ウ 豊臣秀吉は、仏教勢力への対抗策としてキリスト教を保護した。
- エ 江戸幕府は、キリスト教を布教しない中国・イギリスとのみ貿易を行った。

問8 下線部 h について、資料1は3代将軍の徳川家光の時代に定められた法令である。幕府は大名に何をさせるために、このような制度を設けたのか。経済的影響に着目して述べよ。

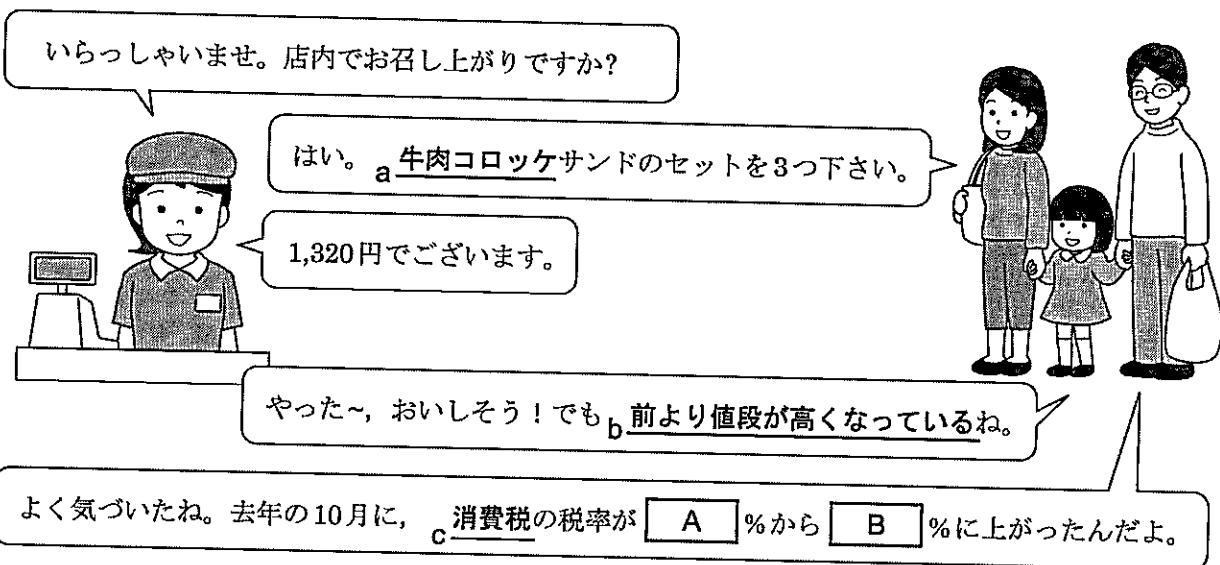
資料1

大名が自分の領地と江戸とを交代で住むように定める。毎年4月に江戸へ参勤せよ。

（『武家諸法度』より一部要約）



5 次の会話文を読み、次の各問いに答えよ。



問1 会話文中の2つの空欄  A  ・  B に入る数字を、それぞれ答えよ。

問2 下線部 a に使用されている牛肉を、アメリカから日本に輸入する時、この店では1kg あたり 10 ドルで輸入している。このとき、為替相場（為替レート）は1ドル=100円であった。その後、為替相場が1ドル=80円に変化した場合、牛肉の輸入価格はどのように変化するか。下の文の空欄  C  ～  F に入る語句の組み合わせとして最も適当なものを次のア～エのうちから1つ選び、記号で答えよ。

1ドル=100円の時、牛肉を1kg 輸入するときの価格は  C 円だったが、1ドル=80円になると価格は  D 円になる。これを  E といい、 F するのに有利である。

- |   |                               |                               |                             |                             |
|---|-------------------------------|-------------------------------|-----------------------------|-----------------------------|
| ア | <input type="text"/> C - 800  | <input type="text"/> D - 1000 | <input type="text"/> E - 円高 | <input type="text"/> F - 輸出 |
| イ | <input type="text"/> C - 1000 | <input type="text"/> D - 800  | <input type="text"/> E - 円安 | <input type="text"/> F - 輸入 |
| ウ | <input type="text"/> C - 800  | <input type="text"/> D - 1000 | <input type="text"/> E - 円安 | <input type="text"/> F - 輸出 |
| エ | <input type="text"/> C - 1000 | <input type="text"/> D - 800  | <input type="text"/> E - 円高 | <input type="text"/> F - 輸入 |

問3 下線部 b の「前より値段が高くなっている」ことに関連して、好況（好景気）時に起こりやすいとされる、物価が上がり続ける現象を何というか。カタカナで答えよ。

問4 下線部 c の消費税は、負担する人と納める人が異なる。このような税を、負担する人と納める人が同じ税に対して何というか。漢字で答えよ。

問5 消費税などの税金は図1・図2に示すように、国が行う経済活動（財政活動）に使われている。これについて、次の問いに答えよ。

図1 国の歳入（収入）

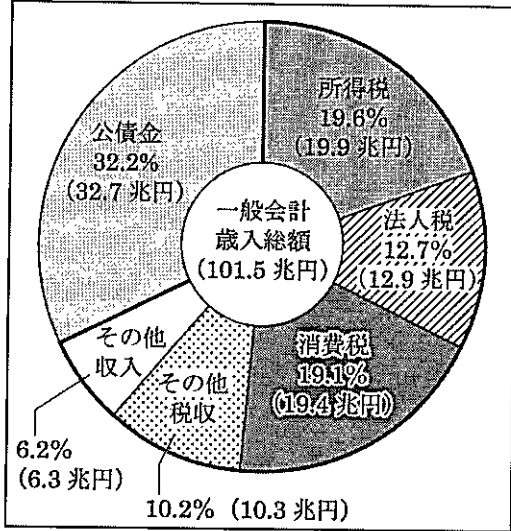
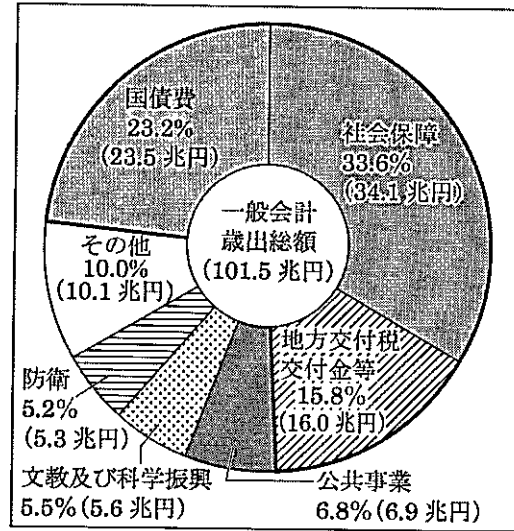


図2 国の歳出（支出）



『これからの日本のために財政を考える』（財務省令和元年6月）より（2019年度予算）

(1) 図2からは、歳出（支出）で最も割合が高いのは社会保障であることがわかる。これに関連して、日本の社会保障の種類とその内容の組み合わせとして最も適当なものを次のア～エのうちから1つ選び、記号で答えよ。

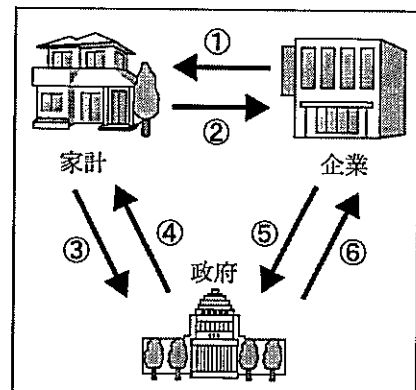
- ア 社会保険 — 支払われた保険料をもとに、病気やケガ、失業者などに給付をする。
- イ 公的扶助 — 予防接種や下水道整備など、病気の予防や生活の基盤を整える。
- ウ 社会福祉 — 生活が苦しい人に生活保護の援助を行う。
- エ 公衆衛生 — 高齢者や障がいのある人などの保護や援助を行う。

(2) 図1と図2からは、「公債金」が「国債費」を上回っていることがわかる。近年この状況が続き、日本の財政は大きな問題をかかえている。その問題とは何か。「公債金」と「国債費」の差に注目して述べよ。

問6 右の図3は、経済のしくみ（経済の循環）を表したものである。図中の①に当てはまる説明文として最も適当なものを次のア～カのうちから1つ選び、記号で答えよ。

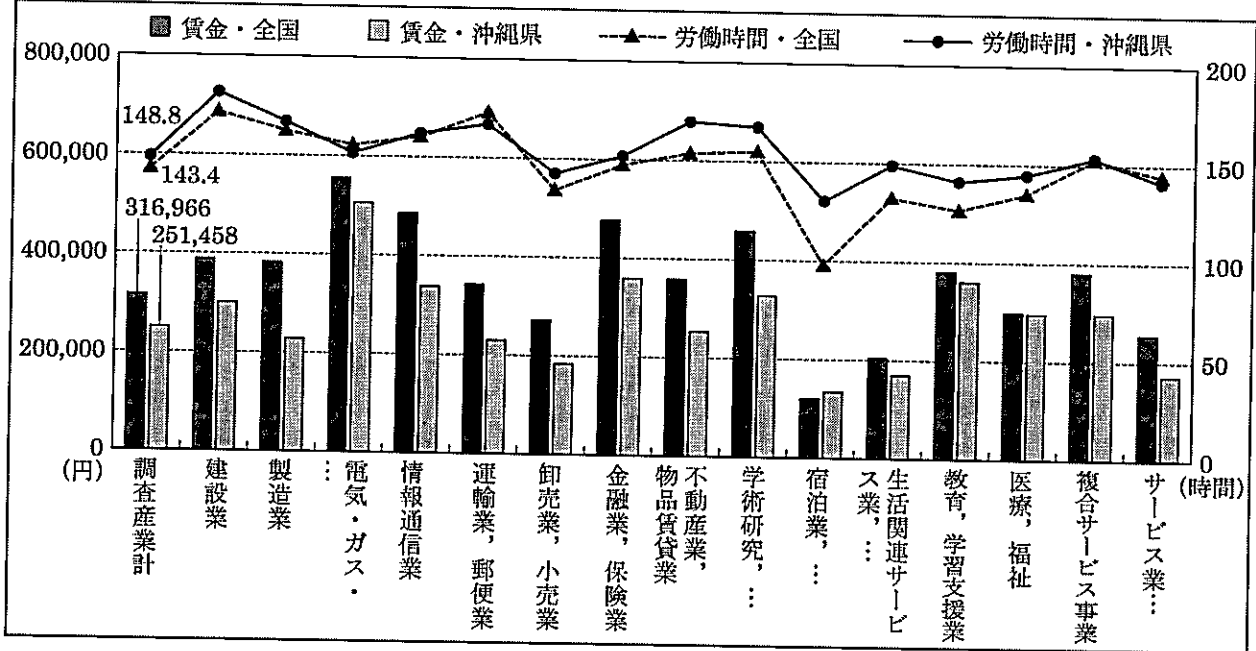
- ア 財（モノ）やサービスの代金を支払う。労働力を提供する。
- イ 公共施設や公共サービスを提供する。給料を支払う。
- ウ 財（モノ）やサービスの代金を支払う。公共施設や公共サービスを提供する。
- エ 税金を納める。労働力を提供する。
- オ 財（モノ）やサービスを提供する。給料を支払う。
- カ 財（モノ）やサービスを提供する。税金を納める。

図3



問7 下の図4は、全国と沖縄県を比較した、1か月平均賃金と労働時間を業種別に表したものである。  
 図4から読み取れる内容として最も適当なものを次のア～エのうちから1つ選び、記号で答えよ。

図4



常用労働者の月間平均賃金・月間平均労働時間の比較（事業所規模5人以上）（平成29年平均）  
 『平成31年 沖縄県勢要覧』（沖縄県企画部統計課 2019年3月）より

- ア 宿泊業の賃金は、沖縄県よりも全国の方が高いことがわかる。
- イ 労働時間は、すべての業種で全国よりも沖縄県の方が長いことがわかる。
- ウ 賃金が月40万円を超える業種は、全国では4つあるが、沖縄県は1つしかないことがわかる。
- エ 全国でも沖縄県でも、労働時間が最も長い業種は、賃金が最も高いことがわかる。

6 次の資料1は、人権の保障に関連する年表である。これについて、次の各問いに答えよ。

資料1

| 人権の保障に関連する年表 |                        |
|--------------|------------------------|
| 1215年        | a <u>マグナカルタ</u> (イギリス) |
| 1689年        | 権利の章典 (イギリス)           |
| 1776年        | b <u>アメリカ独立宣言</u>      |
| 1789年        | フランス人権宣言               |
| 1919年        | c <u>ワイマール憲法</u> (ドイツ) |
| 1946年        | 日本国憲法                  |
| 1948年        | d <u>世界人権宣言</u>        |

問1 下線部 a では主に自由権が保障された。これに関連して、日本国憲法で保障されている自由権の種類と具体的な権利の組み合わせとして最も適当なものを次のア～ウのうちから1つ選び、記号で答えよ。

- ア 精神の自由 — 奴隷的拘束や苦役からの自由
- イ 生命・身体の自由 — 表現の自由
- ウ 経済活動の自由 — 職業選択の自由

問2 人権は、自分の権利と他人の権利が衝突するとき制限されることがある。これに関連して、日本国憲法ではどのような場合に人権が制限されるとしているか。資料2の〇〇と△△に当てはまる語句をそれぞれ漢字2字で答えよ。

資料2

日本国憲法 第13条

すべて国民は、個人として尊重される。生命、自由及び幸福追求に対する国民の権利については、〇〇の△△に反しない限り、立法その他の国政の上で、最大の尊重を必要とする。

問3 下線部bの宣言に大きな影響を与えた人物に、フランスの思想家モンテスキューがいる。彼の思想として最も適当なものを次のア～エのうちから1つ選び、記号で答えよ。

- ア 人はみな生命や自由、抵抗権などの自然権を持っているとし、民主政治の大切さを説いた。
- イ 国の権力を立法・司法・行政に分ける、権力分立（三権分立）を主張した。
- ウ 自由で平等な社会をつくるために、人民主権が必要だと説いた。
- エ 王による政治ではなく、人民の人民による人民のための政治を主張した。

問4 下線部cの憲法は世界で初めて社会権を保障した憲法だといわれる。社会権は、自由権や平等権だけでは人間らしい生活を保障するには不十分だったために登場したが、なぜ不十分だったのか。その理由を、当時の人々が困っていた経済的な問題に触れて、解答欄に合わせて文を完成させよ。

問5 下線部dについて、次の問いに答えよ。

(1) この宣言が採択された国際的な組織を何というか。漢字で答えよ。

(2) この宣言を具体化し人権保障を実現するため、1966年に同じ組織で採択されたものは何か。最も適当なものを次のア～エのうちから1つ選び、記号で答えよ。

- ア 国際人権規約
- イ 人種差別撤廃条約
- ウ 京都議定書
- エ 児童（子ども）の権利条約

問6 近年、社会の変化にともなって、日本国憲法に直接は規定されていない人権も認められるようになってきた。そのような権利として最も適当なものを次のア～エのうちから1つ選び、記号で答えよ。

- ア 請願権
- イ 裁判を受ける権利
- ウ 環境権
- エ 教育を受ける権利

問7 日本国憲法では、基本的人権を守るための権利として参政権を保障している。これに関連して、参議院議員選挙および参議院の特徴として適当なものを次のア～オのうちからすべて選び、記号で答えよ。

- ア 任期は6年
- イ 解散がある
- ウ 被選挙権は30歳以上
- エ 議員の数は衆議院よりも少ない
- オ 沖縄県選挙区からは一度に4人が選ばれる

|    |    |   |  |
|----|----|---|--|
| 1  | 問1 |   |  |
|    | 問2 |   |  |
|    | 問3 | Z |  |
|    |    | ① |  |
|    | 問4 |   |  |
|    | 問5 |   |  |
|    | 問6 |   |  |
|    | 問7 |   |  |
| 問8 | I  |   |  |
|    | II |   |  |

|    |    |    |  |
|----|----|----|--|
| 2  | 問1 |    |  |
|    | 問2 |    |  |
|    | 問3 |    |  |
|    | 問4 |    |  |
|    | 問5 | 記号 |  |
| 理由 |    |    |  |

|    |    |     |        |
|----|----|-----|--------|
| 3  | 問1 |     |        |
|    | 問2 | あ   |        |
|    |    | う   |        |
|    | 問3 | (1) |        |
|    |    | (2) | 日本から来た |
|    | 問4 | ㊦   |        |
|    |    | ㊧   |        |
| 問5 | 記号 |     |        |
|    | 内容 |     |        |



|    |    |       |     |
|----|----|-------|-----|
| 1  | 問1 | 太平洋   |     |
|    | 問2 | ウ     |     |
|    | 問3 | Z     | インド |
|    |    | ①     | 英語  |
|    | 問4 | ア     |     |
|    | 問5 | イ     |     |
|    | 問6 | エ     |     |
|    | 問7 | ア     |     |
| 問8 | I  | さとうきび |     |
|    | II | バイオ   |     |

|    |    |   |   |
|----|----|---|---|
| 2  | 問1 | 1   |   |
|    | 問2 | 3   |   |
|    | 問3 | (例) 火山灰を成分とする地層が広く分布している県では、農業産出額に占める米の割合が低く、畜産の割合が高い |   |
|    | 問4 | (例) 高くなったことによって、 <u>生産にかかる費用</u> を下げるために、海外生産比率を高めた   |   |
|    | 問5 | 記号  | X |
| 理由 |    | (例) 海から離れることができ、標高が高いから。                              |   |

|    |    |   |                             |
|----|----|---|-----------------------------|
| 3  | 問1 | 3   |                             |
|    | 問2 | あ   | 3                           |
|    |    | う   | 2                           |
|    | 問3 | (1)                                       | 2                           |
|    |    | (2)                                       | (例) 日本から来た正式な貿易船であることを証明した。 |
|    | 問4 | ㊦   | 石油危機 (またはオイル・ショック)          |
|    |    | ㊧   | バブル経済                       |
|    | 問5 | 記号  | C                           |
| 内容 |    | (例) <u>貨幣経済</u> が発達して、 <u>商品作物</u> が売買された |                             |

|    |                                  |           |    |
|----|----------------------------------|-----------|----|
| 4  | 問1                               | イ         |    |
|    | 問2                               | 天平        | 文化 |
|    | 問3                               | イ → ウ → ア |    |
|    | 問4                               | A         | 御恩 |
|    |                                  | B         | 奉公 |
|    | 問5                               | イ         |    |
|    | 問6                               | ウ         |    |
|    | 問7                               | ア         |    |
| 問8 | (例) 幕府は大名に江戸での生活費や領地との往復費用を負担させる |           |    |

ため

|    |    |          |               |   |
|----|----|----------|---------------|---|
| 5  | 問1 | A        | 8             | % |
|    |    | B        | 10            | % |
|    | 問2 | エ        |               |   |
|    | 問3 | インフレーション |               |   |
|    | 問4 | 間接税      |               |   |
|    | 問5 | (1)      | ア             |   |
|    |    | (2)      | (例) 国の借金が増える。 |   |
|    | 問6 | オ        |               |   |
| 問7 | ウ  |          |               |   |

|    |         |  |      |  |
|----|---------|--|------|--|
| 6  | 問1      | ウ  |      |  |
|    | 問2      | 公共の福祉  |      |  |
|    | 問3      | イ  |      |  |
|    | 問4      | (例) 自由権や平等権の保障だけでは<br>貧困や失業を改善する<br>ことができなかったから。 |      |  |
|    | 問5      | (1)  | 国際連合 |  |
|    |         | (2)  | ア    |  |
|    | 問6      | ウ  |      |  |
| 問7 | ア, ウ, エ |  |      |  |



1 問4 パリ、ローマ、東京はいずれも温帯に属しているが、ローマは夏に降水量が少なく乾燥しており、冬に一定の降水量が見られる地中海性気候である。

イ：気温の年較差が大きく、夏に降水量が多いため温暖湿潤気候の東京。よって、誤り。

ウ：気温と降水量の年較差が小さいため、西岸海洋性気候のパリ。よって、誤り。

問5 ア：パンやめん類などに加工される穀物は小麦。小麦は降水量の少ない平原で栽培されており、中国、インド、アメリカ合衆国などが生産上位国に入る作物Bの説明。よって、誤り。

ウ：食用以外に、植物油の原料や家畜の飼料として利用される穀物はとうもろこし。とうもろこしはメキシコの主食であるほか、アメリカ合衆国や中国などでは家畜の飼料としても生産されており日本も輸入している。これらの国が生産上位国に入る作物Aの説明。よって、誤り。

2 問1 主題図A中のアは高松市。瀬戸内の気候のため温暖で年降水量が少ないことが特徴である。

2：年平均気温が高く、梅雨と台風の時期に降水量が多いため南西諸島の気候。よって、誤り。

3：冬の降水量が多いため日本海側の気候。よって、誤り。

4：年平均気温が低く、年降水量が少ないため北海道の気候。よって、誤り。

問3 資料ⅡのPは米、Qは野菜、Rは畜産を示している。資料Ⅱの県のうち主題図Cの火山灰を成分とする地層が広く分布する宮崎県と鹿児島県は、農業産出額の米の割合が低く畜産の割合が高い。

問4 円の為替相場が下がると、外国の通貨よりも円の価値が高い円高になる。円高の場合、外国で日本製品が売れにくくなるため、最初から海外生産を行うことで円高の影響を小さくする。

問5 Xは標高が高い方向を示しているのに対して、Yは標高が低い方向を示している。2011年3月に起こった東日本大震災では津波による被害が大きかったため、海から遠く標高の高いXが正解。

3 問3 (1) 資料Ⅰは室町時代の日明貿易で使用された勘合と呼ばれる割符である。

(2) 13～16世紀に朝鮮半島・中国沿岸をおそう倭寇が現れると、正式な貿易船と倭寇を区別するために勘合が用いられた。このことから日明貿易は勘合貿易とも呼ばれる。

問4 20世紀とは1901～2000年までの100年間。石油危機（オイル・ショック）は、1973年に始まった第4次中東戦争の影響で原油価格が高騰し、世界経済が混乱した出来事。日本でも石油が不足し物価が異常に高騰した。バブル経済は1986～91年に地価と株価が異常に高騰して起こった経済。バブル経済崩壊後、日本では大量の失業者が発生するなど不況に陥った。

問5 Aは奈良時代、Bは室町時代、Cは江戸時代、Dは明治時代、Eは昭和時代の貨幣。図の間屋は鎌倉や室町時代の間（問丸）が発達した、地方の生産者と都市の仲買・小売商人の仲介を行う業者である。18世紀ごろ、道具や肥料などの購入に貨幣が必要になった農民によって商品作物の生産が行われるようになると、次第に生産者である農民と生産物を買取る問屋が結びつき、問屋が農民に原料や道具を前貸しして製品をつくらせ、その製品を安く買取る問屋制家内工業と呼ばれる生産形態が生まれた。

4 問3 アは794年、イは701年、ウは743年のできごとである。

問5 琉球王国が薩摩藩に征服された年は1609年であるが、中国への朝貢は続けられた。

問8 参勤交代の制度化によって各藩は大きな費用負担を課せられる事になり、経済力が抑制された。

5 問1 消費税は2014年に5%から8%に引き上げられ、さらに2019年に10%に引き上げられた。

同時に軽減税率が導入され、飲食料品や新聞は8%とされた。飲食料品の軽減税率はテイクアウトでのみ適用されるため、会話文の場合は適用されない。

問5 (2) 公債金は国債を発行して借りるお金、国債費は国債の返済や利子の支払いの為の費用である。税収で賄えているのは歳出総額の3分の2程度で残りは借金である公債金に依存しており、近年、国債費の割合も大きい。この状況が続くと借金が増え、将来世代への負担が大きくなる。

6 問4 資本主義が発達するにつれて人々の間には貧富の差の拡大、失業や労働問題などが生まれており、こうした問題を解決するため社会権の保障が定められたワイマール憲法が登場した。

問7 イ：解散があるのは衆議院である。衆議院は参議院よりも任期が4年と短く解散があることから国民の意思を反映しやすいとされ、参議院よりも強い権限が与えられている。よって、誤り。

オ：参議院議員選挙の沖縄県選挙区の定数は2人である。よって、誤り。