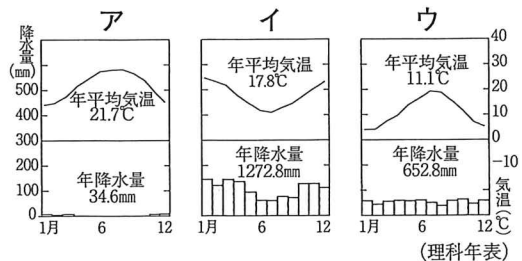


2

地理—グラフ・表を使った問題

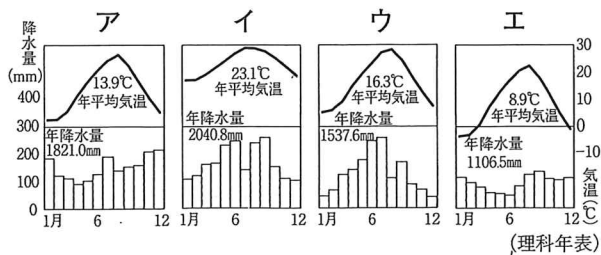
1 【雨温図の問題・世界】

次のア～ウのグラフは、地図中の①～③のいずれかの都市の気温と降水量を示している。①と③の都市の気温と降水量を示しているものを、ア～ウからそれぞれ選べ。(熊本改)



2 【雨温図の問題・日本】

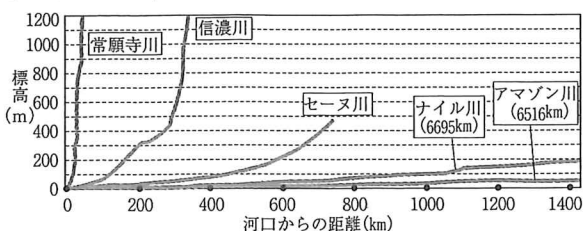
次のア～エのグラフは、札幌市、新潟市、広島市、那覇市のいずれかの都市の月別降水量と月別平均気温を示したものである。新潟市のグラフにあてはまるものを、ア～エから選べ。(新潟) []



3 【グラフを読みとる問題】

(1) 【記述】資料から読み取れる日本の川の特徴を、世界の川と比較して書け。(福井改)

[日本の川は、]

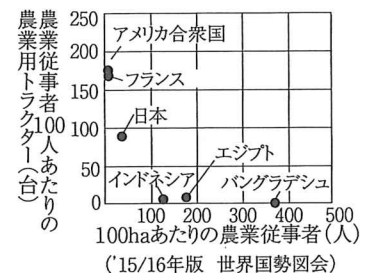


(2) 【記述】次の資料は、タンザニアとボリビアの2013年における輸出入額の品目別の割合を示している。両国に共通する輸入と輸出の特徴を、それぞれ資料から読みとり、簡単に書け。(山口改)

タンザニア	機械類	自動車	
輸入	石油製品 37.7%	12.0	8.9
			その他 41.4
輸出	野菜・果実	貴金属鉱	
	金(非貨幣用) 35.1%	7.2	6.8
			その他 50.9
ボリビア		自動車	
輸入	機械類 23.6%	石油製品 18.9	11.5
			その他 46.0
輸出	天然ガス 50.1%	銀鉱	亜鉛鉱
		6.9	6.2
			その他 36.8

(15/16年版 世界国勢図会)

(3) 【記述】右のグラフは、各国の農業従事者100人あたりの農業用トラクターの台数と100haあたりの農業従事者数を示している。このグラフから読みとれる、先進国の農業の特色を、「機械化」という語を用いて書け。(石川改)



(4) 次の製造品出荷額割合のグラフは、京浜、中京、瀬戸内、北九州の4つの工業地帯・地域のものである。瀬戸内工業地域にあたるものを、ア～エから選べ。(山形) []

総額	25.4兆円				
ア	金属 9.0%	機械 45.8	化学 19.9	食料品 10.4	その他 14.9
イ	総額	52.6兆円			
	金属 9.8%	機械 67.3	化学 7.6	食料品 4.7	その他 10.6
ウ	総額	8.2兆円			
	金属 16.5%	機械 41.3	化学 7.0	食料品 17.7	その他 17.5
エ	総額	29.5兆円			
	金属 18.6%	機械 31.1	化学 27.1	食料品 7.5	その他 15.7

(15/16年版 日本国勢図会)

4 【表を読みとる問題】

(1) 次の表は、日本とアメリカ合衆国、中国について、それぞれの国の2000年と2013年における輸入総額、輸入相手国と輸入額を示したものである。この表を見て、①、②に答えよ。(新潟)

	年	輸入総額 (百万ドル)	輸入相手国と輸入額(百万ドル)		
			A	B	C
A	2000	377,153		72,514	55,156
	2013	832,343		71,939	180,785
B	2000	1,238,200	149,520		106,215
	2013	2,268,319	138,573		440,448
C	2000	225,096	41,512	22,375	
	2013	1,946,846	162,219	146,979	

(02/03年版,15/16年版,世界国勢図会)

① 表中のA～Cについて、2000年を基準としたとき、2013年における輸入総額の増加の割合の高い順に並べたものとして正しいものを、ア～カから選べ。 []

- ア A→B→C イ A→C→B
ウ B→A→C エ B→C→A
オ C→A→B カ C→B→A

② 表中のA～Cにあてはまる国名の組み合わせとして正しいものを、ア～カから選べ。 []

- ア A-日本 B-中国 C-アメリカ
イ A-日本 B-アメリカ C-中国
ウ A-中国 B-日本 C-アメリカ
エ A-中国 B-アメリカ C-日本
オ A-アメリカ B-日本 C-中国
カ A-アメリカ B-中国 C-日本

(2) 次の表のa～dには、山梨県、新潟県、群馬県、青森県のいずれかがあてはまる。山梨県にあてはまるものを、a～dから選べ。また、表の [] にあてはまる作物を、ア～エから選べ。(北海道)

山梨県 []
作物 []

- ア パイナップル イ みかん
ウ りんご エ ぶどう

項目 県	耕地面積(ha)			作物の収穫量(t)		
	田	普通畑	樹園地	米	キャベツ	[]
a	27,400	40,600	3,590	89,600	249,900	1,070
b	83,100	34,900	22,900	302,600	16,900	4,860
c	153,300	16,400	2,440	664,300	13,000	2,790
d	8,100	4,980	10,600	29,000	4,100	48,200

(2015年版 県勢)

(3) 次の表は、福井県、奈良県、愛知県、埼玉県の昼夜間人口比率を示している。このうち、奈良県と愛知県について示しているものを、ア～エから選べ。

(青森)

奈良県 [] 愛知県 []

	人口(万人)	昼夜間人口比率(%)
ア	140.1	89.9
イ	741.1	101.5
ウ	80.6	100.1
エ	719.5	88.6

(2015年版 県勢)

$$\text{※昼夜間人口比率} = \frac{\text{昼間人口}}{\text{夜間人口}} \times 100$$

(4) 次の表は、あるエネルギー資源について、上位6か国の生産量が世界に占める割合を示している。このエネルギー資源は何か。(新潟)

[]

順位	国名	割合(%)
1	中国	56.6
2	インド	8.7
3	アメリカ合衆国	6.9
4	インドネシア	6.0
5	オーストラリア	4.9
6	ロシア	4.3

(15/16年版 世界国勢図会)

(5) 次の表は、面積、人口密度、日本への輸出額、日本からの輸入額を示しており、①～④はインド、サウジアラビア、中国、アメリカ合衆国のいずれかである。表中の①と④にあてはまる国の組み合わせとして適切なものを、ア～カから選べ。(兵庫)

[]

国	面積 (万km ²) (2013年)	人口密度 (人/km ²) (2013年)	日本への輸出額 (億円) (2014年)	日本からの輸入額 (億円) (2014年)
①	983	33	75,427	136,493
②	960	143	191,765	133,815
③	329	399	7,391	8,610
④	215	15	50,153	8,049

(15/16年版 世界国勢図会ほか)

ア ① 中国 ④ サウジアラビア

イ ① 中国 ④ インド

ウ ① インド ④ 中国

エ ① インド ④ アメリカ合衆国

オ ① アメリカ合衆国 ④ インド

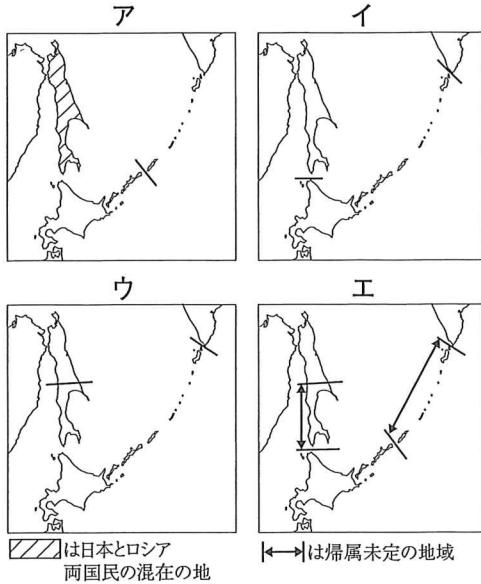
カ ① アメリカ合衆国 ④ サウジアラビア

4

歴史－資料・グラフを使った問題


1 【歴史地図を使った問題】 (鳥取)

ポーツマス条約に基づいた国境線を表す地図として、最も適切なものを、ア～エから選べ。 []



2 【グラフを使った問題】

(1) 次のグラフは、わが国の1865年における貿易品目の割合を示している。グラフのX, Yにあてはまる組み合わせを、ア～エから選べ。 (奈良)



- ア X - 生糸 Y - 銅
- イ X - 生糸 Y - 綿織物
- ウ X - 銅 Y - 綿織物
- エ X - 銅 Y - 生糸

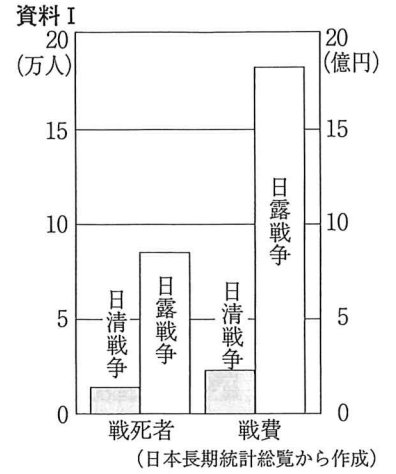
(2) 【記述】資料は、民主化をねらいとして行われた、ある改革による農村の変化を示している。どのような変化が読み取れるか、改革の名称を明らかにして簡単に書け。 (石川改)

自作・小作の農家の割合

1940年	自作 31.1%	自作兼小作 (自作兼小作)42.1	小作 26.8	
1950年	61.9%		32.4	5.1 その他 0.6

(日本経済統計集から作成)

(3) 右の資料Iは、日清戦争と日露戦争における日本の戦費と戦死者数を、資料IIは、下関条約とポーツマス条約のおもな内容を示したものである。日露戦争後、東京などで暴動をともし、民衆運動がおこったのはなぜか、その理由の1つとして考えられることを、資料I, 資料IIから読みとれることをもとにして、簡単に書け。



資料II

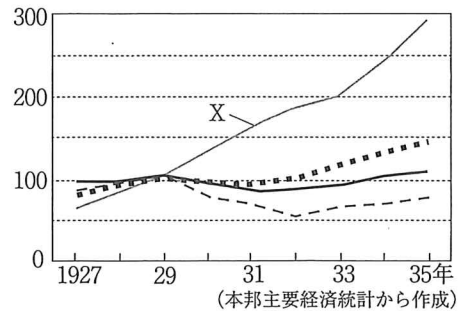
【下関条約】

- 清は、朝鮮の独立を認める。
- 清は遼東半島・台湾などを日本にゆずる。
- 清は、賠償金2億両(約3億1000万円)を日本に支払う。

【ポーツマス条約】

- ロシアは、韓国における日本の優越権を認める。
- ロシアは、旅順・大連の租借権を日本にゆずる。
- ロシアは、北緯50度以南の樺太を日本にゆずる。

(4) 右のグラフは、1927年から1935年にかけての日本, アメリカ合衆国, イギリス



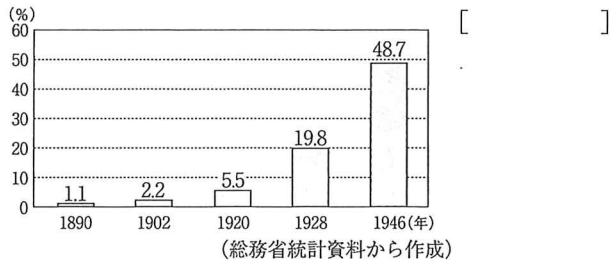
ス, ソ連の国別の鉱工業生産量について、1929年の生産量を100とした場合、どう変化したかを比較したものである。Xにあたる国はどこか。国名を書け。また、そう判断した理由を当時その国で経済発展の

ために進められていたことにふれながら簡単に書け。

国名 []

理由 []

(5) 次のグラフは、全人口に占める有権者の割合の推移を示したものである。このグラフの説明として誤っているものを、ア～エから選べ。



- ア 1890年の割合が低いのは、性別・年齢・納税額の厳しい制限があったからである。
- イ 1920年の割合が1890年の割合に比べて増えたのは、年齢や納税額の制限が引き下げられたからである。
- ウ 1928年の割合が1920年の割合に比べて増えたのは、納税額の制限がなくなり、男子による普通選挙が実現したからである。
- エ 1946年の割合が1928年の割合に比べて増えたのは、男女平等の普通選挙が実現したからである。

3 【資料を使った問題】

(1) 次の資料は、防人が詠んだ歌である。この歌がおさめられており、大伴家持がまとめたといわれている和歌集の名称を漢字で書け。(岐阜)

[]

から衣 すそに取りつき 泣く子らを
置きてぞ来ぬや 母なしにして

(2) 次の資料に関係の深いできごとを、ア～エから選べ。(高知) []

永仁の徳政令

所領の質入れや売買は、御家人の生活が苦しくなるもとなので、今後は禁止する。以前に売買された御家人の土地は、もとの所有者に返すこと。

- ア 鉄砲が伝来する。 イ 元が2度襲来する。
- ウ 保元の乱がおこる。 エ 勘合貿易が始まる。

(3) 次の資料を読んで、①、②に答えよ。(高知)

阿氏河莊の農民の訴状 (部分要約)

材木のことですが、京上りや近くでの人夫が必要だといって、[X] にこき使われていますので、ひまがございません。残ったわずかの者を、材木の運び出しに向かわせましたところ、逃亡した農民の土地に麦をまけど、[X] に追い返されました。

- ① [X] には、当時の幕府に仕えていた御家人が任命された役職が入る。[X] にあてはまる語句を書け。 []
- ② この訴えがおこされたころの社会のようすについて述べたものを、ア～エから選べ。

[]

- ア 東海道や中山道など五街道が整備され、陸上交通が発達した。
- イ 寺社の門前や交通の要地では、市が定期的を開かれた。
- ウ 都市では同業者組合である株仲間がつくられ、営業を独占した。
- エ 問屋制家内工業が発達し、各地で布などの特産物がつくられた。

(4) 次の資料は、戊辰戦争が始まった年に出されたものである。これを何というか。また、これが出された後に行われたことを、ア～エから選べ。(高知改)

名称 [] 記号 []

一、 広ク会議ヲ興シ、 万機公論ニ決スベシ。
一、 上下心ヲ一ニシテ、 盛ニ経綸ヲ行ウベシ。
一、 官武一途庶民ニ至ル迄、 各其志ヲ遂ゲ、
人心ヲシテ倦マザラシメンコトヲ要ス。

- ア 大政奉還 イ 薩長同盟
 - ウ 廃藩置県 エ 天保の改革
- (5) 次の資料は、戦国大名が領内の武士や農民を統制するためにつくった独自の法である。このような法を何というか、ア～エから選べ。(奈良)

[]

- ア 御成敗式目 イ 班田収授法
- ウ 分国法 エ 武家諸法度

一 許可を得ないで他国への手紙を送ってはならない。(甲州法度之次第)
一 本拠である朝倉館のほか、国のなかに城をかまえてはならない。(朝倉孝景条々)